


제 4 교시

직업탐구 영역(상업 경제)

성명 수험 번호

1. 다음은 환경 관련 뉴스이다. 이에 나타난 문제점을 해결하기 위한 방안으로 적절한 것을 <보기>에서 고른 것은?



전 세계 195개 국가는 기후 변화로 인한 위협에 대처하기 위해 저탄소 경제로의 전환을 위한 '파리협정'을 채택하였습니다. 이 협정을 채택하게 된 이유는 탄소 에너지 연소 후 발생하는 이산화탄소가 지구 온난화 문제를 유발하기 때문입니다.

- < 보기 > —
- ㄱ. 화력 발전소 건설 확대
 - ㄴ. 풍력 에너지 사용 확대
 - ㄷ. 산업 폐기물 소각 처리 확대
 - ㄹ. 전기 연료 자동차 보급 확대

- ① ㄱ, ㄴ ② ㄱ, ㄷ ③ ㄴ, ㄷ
 ④ ㄴ, ㄹ ⑤ ㄷ, ㄹ

2. 다음은 ○○(주)의 신상품 관련 자료이다. 이에 나타난 판매 전략을 반영할 경우 예상할 수 있는 결과로 적절한 것을 <보기>에서 고른 것은?

- 신상품 판매 전략
- 신상품의 구매 빈도를 높일 방안을 모색함.
- 낮은 단위당 가격과 대량 판매로 매출 이익을 창출함.
- 카탈로그, 전단지 등을 이용한 판촉 활동과 네온사인 광고를 활용하여 상품을 홍보함.
- 상품의 취급을 원하는 모든 판매점에 신상품을 공급함.

- < 보기 > —
- ㄱ. 점두 광고 방식이 도입될 것이다.
 - ㄴ. 신상품의 시장 노출이 확대될 것이다.
 - ㄷ. 박리다매 가격 정책이 도입될 것이다.
 - ㄹ. 선택적 유통 경로 정책이 적용될 것이다.

- ① ㄱ, ㄴ ② ㄱ, ㄷ ③ ㄴ, ㄷ
 ④ ㄴ, ㄹ ⑤ ㄷ, ㄹ

3. 다음은 ○○기업의 판매 서비스에 관한 내용이다. 이를 통해 알 수 있는 전자 상거래 유형으로 옳은 것은?

○○기업은 오프라인 매장에서 쇼핑할 시간이 없는 맞벌이 부부나 1인 가구를 위해 컴퓨터나 스마트폰을 이용하여 쉽게 상품을 구매할 수 있는 서비스를 제공하고 있다. 이 서비스는 구매 결정부터 결제까지 간단하게 처리할 수 있기 때문에 매년 이용자가 증가하고 있다.

- ① B2B ② B2C ③ B2G
 ④ C2C ⑤ C2G

[4~5] 다음은 ○○(주) 사원 모집 공고문의 일부이다. 물음에 답하시오.

모집 공고

당사는 고객의 증권 발행 사무와 증권 매매 업무를 수행하고 있는 회사로 다음과 같이 유능한 사원을 모집합니다.

- 다 음 -

- 모집 부문: 영업 업무직
- 담당 직무: 고객으로부터 의뢰받은 증권 매매
- 지원 자격: 증권 투자 권유 대행인 자격을 취득한 자

4. 위 공고문의 모집 부문에 해당하는 상업 주체의 권리와 의무에 대한 설명으로 옳은 것을 <보기>에서 고른 것은? [3점]

- < 보기 > —
- ㄱ. 위탁자의 명의로 거래한다.
 - ㄴ. 경업 금지 의무를 준수한다.
 - ㄷ. 금융 상품의 판매 차액을 보수로 받는다.
 - ㄹ. 특정 상인에 종속되어 대외 활동을 보조한다.

- ① ㄱ, ㄴ ② ㄱ, ㄷ ③ ㄴ, ㄷ
 ④ ㄴ, ㄹ ⑤ ㄷ, ㄹ

5. 위 공고문의 담당 직무에 해당하는 경쟁 매매 방법에 대한 설명으로 옳은 것은?

- ① 입찰 공고에 의해 거래한다.
 ② 경매와 동일한 적상법을 이용한다.
 ③ 구두나 손짓으로 매매 가격을 제시한다.
 ④ 공기업의 공사 발주 시 사용하는 매매 방법과 동일하게 거래한다.
 ⑤ 판매자들과 구매자들 간 동시 경쟁에 의한 균형 가격으로 거래한다.

6. 다음은 수출 대금 결제와 관련된 대화이다. 이에 나타난 변경할 대금 결제 방식에 대한 설명으로 옳은 것을 <보기>에서 고른 것은? [3점]

사원: 이번 수출 계약은 이전과 동일한 대금 결제 방식으로 진행할까요?
 과장: 이전 계약은 선적 후 45일 이내에 우편환(M/T)을 이용한 송금 방식이었습니다. 그러나 대금 회수의 어려움이 있어 이번 계약 시에는 대금 결제 방식을 변경하는 것이 좋겠습니다.
 부장: 그럼, 대금 결제는 은행이 대금 지급을 보증하는 방식으로 변경하여 진행하세요.

— <보기> —
 가. 매입 은행이 신용장을 발행한다.
 나. 발행 은행이 대금 지급을 약속한다.
 다. 수입상 거래 은행에 추심을 의뢰한다.
 르. 수출상 거래 은행에 환어음 매입을 요청한다.

- ① 가, 나 ② 가, 다 ③ 나, 다
- ④ 나, 르 ⑤ 다, 르

7. 다음은 ○○(주)의 물류 시스템 도입 과정이다. 이에 따른 예상 효과가 나타날 수 있는 물류 시스템으로 가장 적절한 것은?

상황 분석	기존 시스템의 비효율적인 물류 운송 체계로 인하여 상품 배송이 지연되고 운송 관련 비용이 증가하는 문제점이 발생함.
↓	
탐색 및 선택	여러 가지 대안을 검토한 결과 새로운 물류 시스템을 도입하기로 결정함.
↓	
예상 효과	배송 차량의 공차 현황, 위치 추적, 배차 정보의 실시간 관리로 물류비 절감이 기대됨.

- ① CVO 시스템 ② EDI 시스템 ③ EOS 시스템
- ④ RFID 시스템 ⑤ Unit-Load 시스템

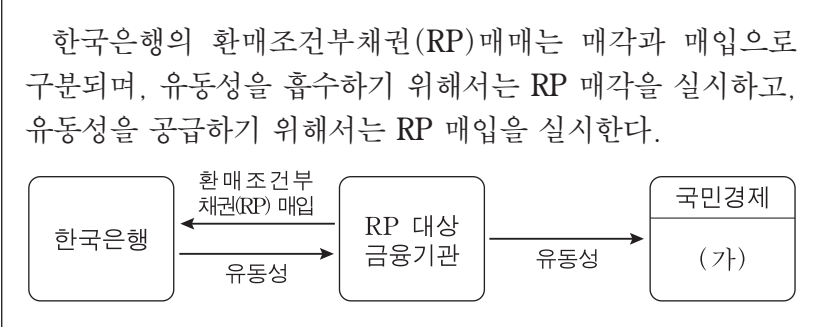
8. 다음은 ○○기업이 받은 경영 컨설팅 내용의 일부이다. 이 컨설팅 결과에 따라 개선해야 할 경영 부문 활동으로 옳은 것을 <보기>에서 고른 것은?

• 컨설팅 결과
 ○○기업의 경영은 전반적으로 양호하게 운영되고 있는 것으로 판단됩니다. 그러나 사원들의 업무 미숙으로 일부 제품의 불량률이 발생하고 있어 공정의 재설계와 품질 관리 활동 강화, 사원들의 직무 교육 및 훈련 등의 개선이 필요합니다.

— <보기> —
 가. 생산 관리 나. 인사 관리
 다. 재무 관리 르. 마케팅 관리

- ① 가, 나 ② 가, 다 ③ 나, 다
- ④ 나, 르 ⑤ 다, 르

9. 다음은 한국은행의 통화신용정책을 나타낸 것이다. 이러한 정책을 실행하였을 때 (가)에 나타날 수 있는 경제 현상으로 적절한 것은? (단, 제시된 자료 외의 것은 고려하지 않는다.) [3점]



- ① 시중 통화량이 감소할 것이다.
- ② 가계 소비 활동이 위축될 것이다.
- ③ 기업의 신규 투자가 감소할 것이다.
- ④ 시중의 대출 가능 자금이 줄어들 것이다.
- ⑤ 변동 금리형 대출 시 이자 부담이 줄어들 것이다.

10. 다음은 A학생이 제출한 환율 변동에 관한 평가지이다. 이 평가를 채점하였을 때 학생이 받은 점수의 합으로 옳은 것은? (단, 환율만 고려하며 환전을 전제로 한다.) [3점]

현 시점에서 미국 달러 대비 원화 가치가 하락하면 상대적으로 수익률이 높아진 미국 달러 표시 자산에 대한 매입 수요는 증가한다. 이러한 상황이 지속될 경우 아래의 사례는 유리 또는 불리 중 어디에 해당하는지 표시하시오.

사례	유리	불리	배점
미 달러화 외화 예금을 조기에 인출한다.	<input type="checkbox"/>	<input checked="" type="checkbox"/>	1점
미국에 소재한 당사 건물을 미 달러화로 매각을 연기한다.	<input type="checkbox"/>	<input checked="" type="checkbox"/>	3점
미 달러 표시 수입 대금은 현재 환율로 선물환 계약을 체결한다.	<input checked="" type="checkbox"/>	<input type="checkbox"/>	5점

- ① 1점 ② 4점 ③ 6점
- ④ 8점 ⑤ 9점

11. 다음은 A씨의 창업과 관련된 내용이다. 이를 통해 알 수 있는 상업의 기능으로 가장 적절한 것은?

A씨는 창업을 준비하기 위해 여러 기관을 알아보던 중 신용협동기구에서 '청년 창업자를 위한 저금리 대출 행사'를 한다는 소식을 접하게 되었다. A씨는 이 행사를 통해서 간편한 서류 제출과 낮은 금리로 즉시 대출을 받아 창업을 하게 되었다.

- ① 소유권을 이전하는 기능
- ② 자금을 융통해 주는 기능
- ③ 시간적 불일치를 조절하는 기능
- ④ 장소적 불일치를 조절하는 기능
- ⑤ 위험에 따른 손실을 보상해 주는 기능

[12~13] 다음은 ○○기업 재무 분석 보고서의 일부이다. 물음에 답하시오.

재무 분석 보고서

- 현재 상황
 - 상품 매출 중 외상 거래 비중이 높음.
 - 일시적 현금 유동성 부족으로 경영의 어려움이 발생함.
 - 신규 투자 확대에 의한 장기 자금 조달이 필요함.
- 대처 방안
 - 일시적 자금 부족 문제는 상품 외상 매출처에 대금 지급을 위탁하는 증권을 발행하기로 결정함.
 - 장기 자금 조달은 직접 금융으로 5년 만기 후 전액 상환하는 유가 증권을 발행하기로 결정함.

12. 위 재무 분석 보고서의 대처 방안에 나타난 대금 지급 수단에 대한 설명으로 옳은 것을 <보기>에서 고른 것은? [3점]

<보기>

ㄱ. 금전 증권에 해당한다.
 ㄴ. 인수 절차가 필요한 증권이다.
 ㄷ. 증권의 지급인은 ○○기업이다.
 ㄹ. 거래 은행이 대금 지급을 보증한다.

- ① ㄱ, ㄴ ② ㄱ, ㄷ ③ ㄴ, ㄷ
 ④ ㄴ, ㄹ ⑤ ㄷ, ㄹ

13. 위 재무 분석 보고서의 대처 방안에 나타난 장기 자금 조달 결정에 따라 발행되는 증권에 대한 설명으로 옳은 것은?

- ① 자기 자본 성격을 가진 증권이다.
 ② 약정된 이자를 지급하는 증권이다.
 ③ 우선 변제권이 부여된 출자 증권이다.
 ④ 주가 변동에 따라 손익이 발생하는 증권이다.
 ⑤ 경영에 참여할 수 있는 권리가 있는 증권이다.

14. 다음은 ○○기업의 해외 진출 자료이다. 이를 통해 알 수 있는 해외 진출 방식으로 옳은 것은?

- 사업 내용: A국 송유관 건설
- 건설 기간: 계약 체결 후 5년 이내
- 해외 진출 방식
 - A국의 기술력이 부족하여 설계, 시공 및 시운전 후 정상적으로 가동되는 상태에서 발주자에게 인도하는 조건으로 수주함.
 - 송유관 건설비는 발주자가 부담하고 인도 시점까지의 법적 책임은 수주자가 부담하는 조건으로 수주함.

- ① 턴키 계약 ② BOT 계약 ③ 국제 라이선싱
 ④ 경영 관리 계약 ⑤ 해외 직접 투자

15. 다음은 우리나라 기업의 무역 사례이다. (가)~(다)에 해당하는 무역에 대한 설명으로 옳은 것을 <보기>에서 고른 것은? [3점]

(가) A국으로부터 의류를 수입하여 통관을 거치지 않고 그대로 B국에 수출하고 있다.
 (나) C국의 기업과 생산 계약을 맺고 원자재를 제공하여 가공한 가방을 제3국에 수출하고 있다.
 (다) 수출국의 ○○기업과 수입국의 △△기업 간 가전제품 무역 거래를 알선하고 있다.

<보기>

ㄱ. (가)는 통관 수수료, 보관료 등의 수익을 위한 무역이다.
 ㄴ. (나)는 수출입의 차액 획득을 위한 무역이다.
 ㄷ. (다)는 중개 수수료 획득을 목적으로 하는 무역이다.
 ㄹ. (가)와 (다)는 제3자가 개입하는 간접 무역에 해당한다.

- ① ㄱ, ㄴ ② ㄱ, ㄷ ③ ㄴ, ㄷ
 ④ ㄴ, ㄹ ⑤ ㄷ, ㄹ

16. 다음은 A기업 수출 업무 일지의 일부이다. 이를 바탕으로 담당자가 수행한 업무로 옳은 것만을 <보기>에서 있는 대로 고른 것은? (단, 가격 조건은 인코텀즈 2010에 의한다.) [3점]

• A기업의 해외 영업 담당자는 미국 B기업과의 수출 업무 처리 내용을 기록하였다.

일자	업무 내용
4월 3일	DAT New York Port 조건, D/A 방식으로 계약 체결
4월 20일	부산항에서 정기선에 화물 선적
5월 17일	환어음과 운송 서류를 ○○은행에 제출
6월 1일	수출 대금 회수

<보기>

ㄱ. 본선수취증 수령 후 선화증권 발행을 요청
 ㄴ. B기업을 지급인으로 하는 일람출급 환어음 발행
 ㄷ. A기업을 피보험자로 하는 적화 보험과 해상 운송 계약 체결

- ① ㄱ ② ㄴ ③ ㄱ, ㄷ
 ④ ㄴ, ㄷ ⑤ ㄱ, ㄴ, ㄷ

17. 다음은 사회 보험에 관한 대화 내용이다. (가), (나)에 해당하는 보험에 대한 설명으로 옳은 것은? [3점]



- ① (가)는 국민건강보험이다.
- ② (가)는 실직 시 실업 급여를 지급한다.
- ③ (나)는 사업주가 보험료 전액을 부담한다.
- ④ (나)는 소득에 비례하여 보험료가 결정된다.
- ⑤ (가)와 (나)는 저축성 기능을 가진 보험이다.

18. 표는 우리나라 국제 수지의 일부를 나타낸 것이다. 2016년 12월 대비 2017년 1월의 국제 수지에 대한 설명으로 옳은 것은? (단, 제시된 자료 외의 것은 고려하지 않는다.) [3점]

구 분	2016년 12월	2017년 1월
상품 수지	94.3	78.1
서비스 수지	-7.9	-33.6
본원 소득 수지	-1.9	10.9
이전 소득 수지	-5.9	-2.7
(소계)	(78.6)	(52.7)
자본 수지	0.2	0.4
금융 계정	92.7	43.5
(소계)	(92.9)	(43.9)

- 한국은행(www.ecos.bok.or.kr), 2017 -

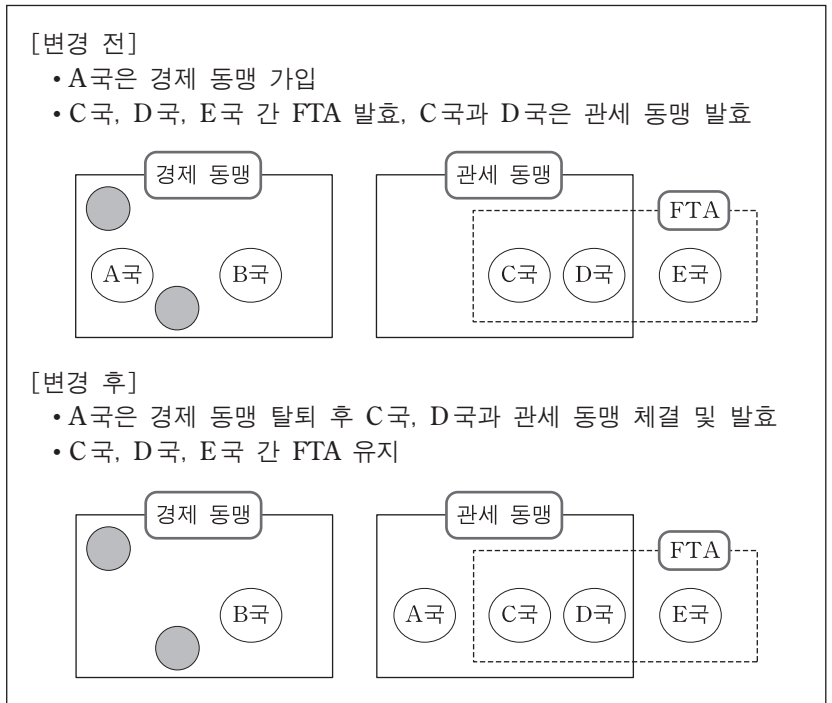
- ① 경상 수지의 흑자폭은 증가하였다.
- ② 해외 증권 투자가 속한 수지의 흑자폭은 감소하였다.
- ③ 개인의 해외 송금이 속한 수지의 적자폭은 증가하였다.
- ④ 상표권 사용 거래가 속한 수지는 16.2억 달러 감소하였다.
- ⑤ 비거주자 근로자의 임금이 속한 수지는 3.2억 달러 증가하였다.

19. 다음은 콘텐츠 산업과 관련된 기사이다. 이를 통해 알 수 있는 무형 재화에 대한 설명으로 옳은 것은?

국내 콘텐츠의 해외 불법 복제와 유통으로 인해 이 권리의 침해 사례가 증가하고 있다. 이에 정부는 불법 복제에 강력히 대응하기 위해 방송, 영화 등 관련 업계와의 협력을 강화하고, 법적 대응과 조치를 본격화할 예정이다.
- ○○신문, 2017년 3월 22일 자 -

- ① 권리의 존속 기간은 20년이다.
- ② 산업재산권에 속하는 권리이다.
- ③ 문학, 학술 등의 창작물에 대한 권리이다.
- ④ 권리금의 형태로 양도할 수 있는 권리이다.
- ⑤ 특허청에 설정 등록 후 권리를 행사할 수 있다.

20. 다음은 경제 통합 상황의 [변경 전]과 [변경 후]를 나타낸 것이다. [변경 후] A국의 입장에서 나타날 수 있는 경제 현상으로 적절한 것만을 <보기>에서 있는 대로 고른 것은? (단, 제시된 자료 외의 것은 고려하지 않는다.) [3점]



〈보기〉

- ㄱ. B국과 노동·자본의 자유로운 이동이 유지될 것이다.
- ㄴ. C국, D국과의 역내 관세가 철폐될 것이다.
- ㄷ. C국, D국, E국과 공동 관세율을 B국에 적용할 것이다.

- ① ㄱ
- ② ㄴ
- ③ ㄱ, ㄷ
- ④ ㄴ, ㄷ
- ⑤ ㄱ, ㄴ, ㄷ

* 확인 사항
○ 답안지의 해당란에 필요한 내용을 정확히 기입(표기)했는지 확인 하시오.